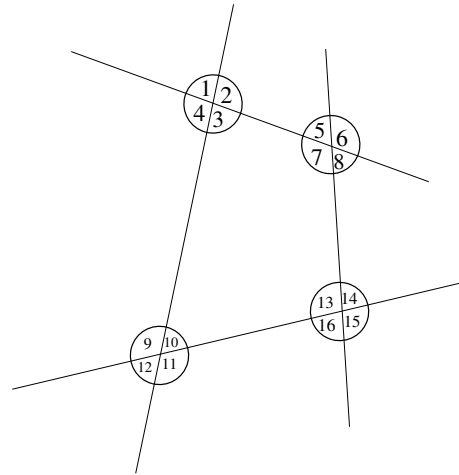


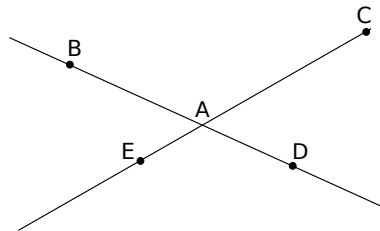
Exercice 1 : Compléter les phrases suivantes avec les mots :

alternes internes, correspondants, adjacents, opposés par le sommet, rien du tout.

- a. Les angles 1 et 3 sont ...
- b. Les angles 4 et 3 sont ...
- c. Les angles 7 et 4 sont ...
- d. Les angles 11 et 14 sont ...
- e. Les angles 12 et 10 sont ...
- f. Les angles 2 et 7 sont ...



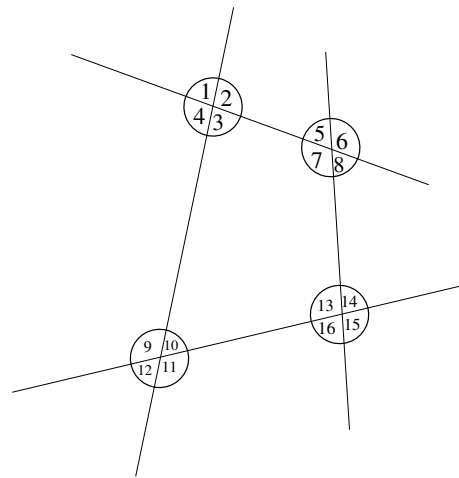
Exercice 2 : Les angles \widehat{BAE} et \widehat{DAC} sont-ils de même mesure ? Si oui, **justifier pourquoi**.



Exercice 1 : Compléter les phrases suivantes avec les mots :

alternes internes, correspondants, adjacents, opposés par le sommet, rien du tout.

- a. Les angles 1 et 2 sont ...
- b. Les angles 9 et 11 sont ...
- c. Les angles 7 et 14 sont ...
- d. Les angles 11 et 13 sont ...
- e. Les angles 9 et 15 sont ...
- f. Les angles 5 et 6 sont ...



Exercice 2 : Les angles \widehat{BAC} et \widehat{EAD} sont-ils de même mesure ? Si oui, **justifier pourquoi**.

